



TD : Analyse multivariée

Analyse en composantes principales

Durée : 2h30

Ce TD a pour objectif une meilleure compréhension des différents résultats fournis par l'analyse en composantes principales.

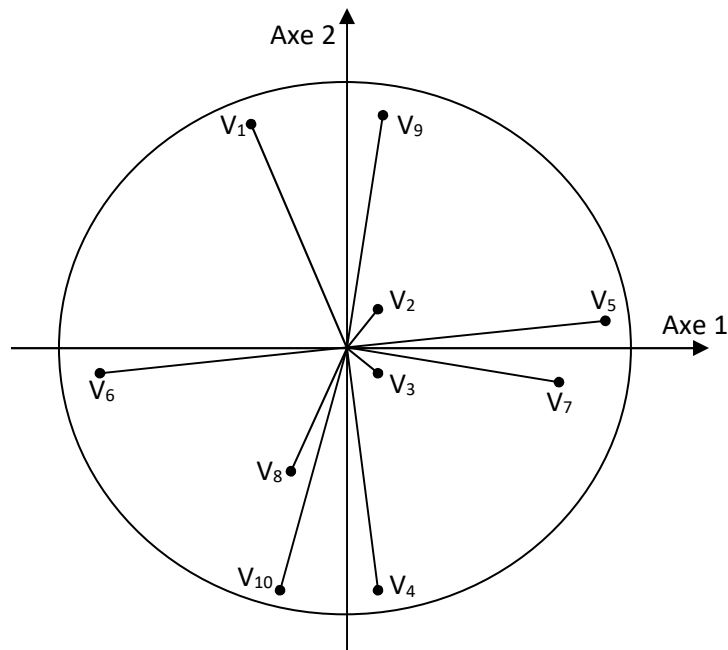
Exercice 1

Interprétation des axes

Une analyse en composante principale (ACP normée) a été effectuée sur 50 avions.

On a déterminé, pour chacun d'eux, la valeur de 10 variables (vitesse de croisière, rayon d'action, consommation, nombre de places, coût de revient du transport par passager et par kilomètre, etc).

On considère la représentation de ces variables dans le cercle de corrélation ci-dessous.



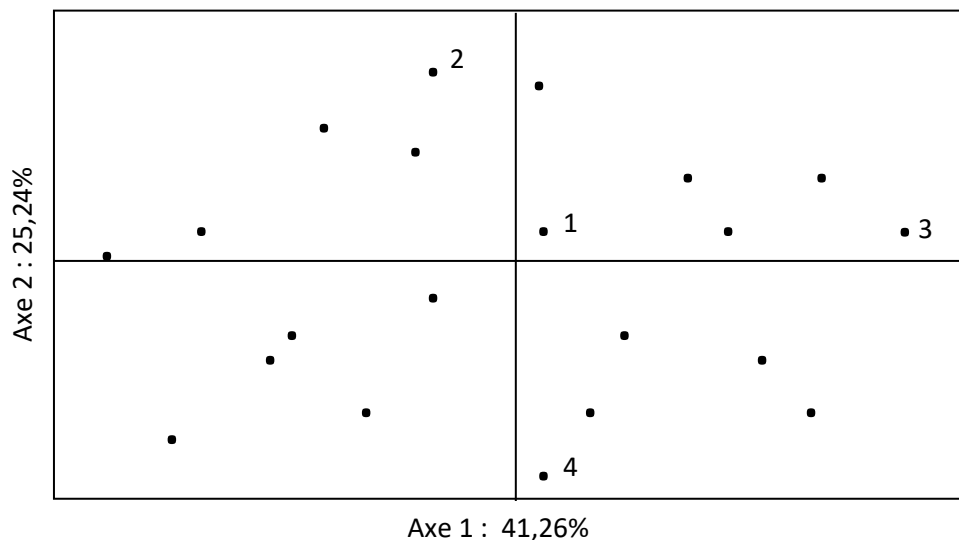
- 1) Quelles sont les variables qui peuvent aider à donner une signification à l'axe 1 ?
- 2) Quelles sont les variables qui ne doivent pas être interprétées sur cette figure ?

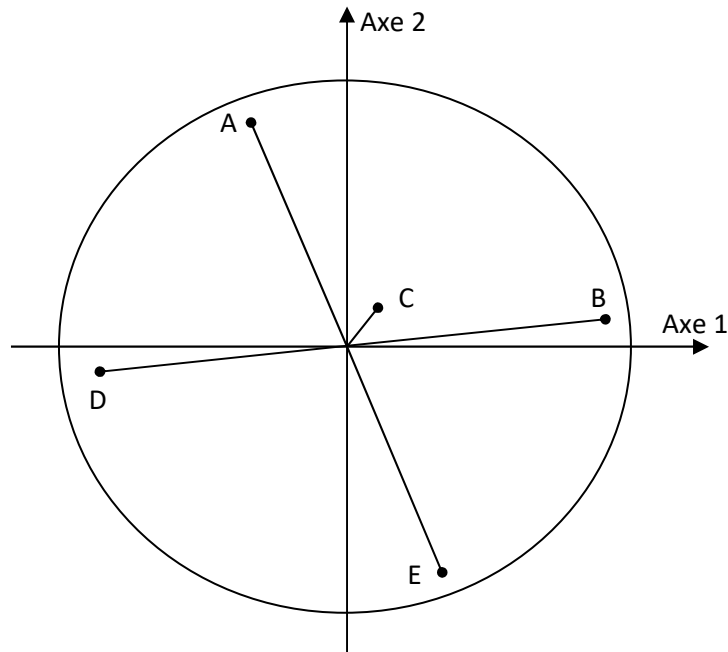
- 3) Donner 3 groupes de variables qui, au sein d'un même groupe, sont fortement corrélées positivement entre elles.
- 4) Citer deux variables qui sont peu corrélées entre elles.
- 5) Citer deux variables qui sont fortement corrélées négativement avec la variable V_4 .
- 6) Quel est approximativement le coefficient de corrélation entre la variable V_1 et la première composante principale ?
- 7) Citer une variable dont le coefficient de corrélation avec la deuxième composante principale vaut presque 1.
- 8) Que signifie le coefficient de corrélation entre la première et la deuxième composante principale ?

Exercice 2*Interprétation des individus*

A partir des graphiques de la figure répondre aux questions suivantes :

- 1) Que peut-on penser des valeurs prises par l'individu 3 pour les variables B et D? Même question pour les valeurs prises par l'individu 2.
 - 2) Que peut-on dire des corrélations entre les variables A et B, C et D, A et E ?
 - 3) Vrai, Faux ou ne sait pas ?
- L'individu 1 prend des valeurs élevées pour la variable C.
 - Pour chacune des variables, les individus 1 et 2 ont des valeurs similaires.



**Exercice 3***Vrai - Faux*

On considère une ACP normée dans laquelle le poids des individus est le même. Répondre par vrai ou faux en justifiant la réponse.

- 1) Plus les variables sont corrélées entre elles plus le pourcentage d'inertie porté par les premiers axes de l'ACP est grand.
- 2) Dans l'espace des individus (espace \mathbb{R}^p), les individus éloignés du centre de gravité du nuage jouent un rôle important dans l'analyse.
- 3) La variance des coordonnées des individus sur le premier axe factoriel est plus élevée que la variance des coordonnées sur le second axe.
- 4) Des variables superposées sur le graphe des corrélations sont nécessairement très corrélées.
- 5) Dans \mathbb{R}^p , un individu très proche du centre de gravité a des valeurs brutes proches de zéro pour l'ensemble des variables.

Exercice 4*Etude complète*

Considérons les notes (de 0 à 20) obtenues par 9 élèves dans 4 disciplines (mathématiques, physique, français, anglais) :

	MATH	PHYS	FRAN	ANGL
jean	6.00	6.00	5.00	5.50
alan	8.00	8.00	8.00	8.00
anni	6.00	7.00	11.00	9.50
moni	14.50	14.50	15.50	15.00
didi	14.00	14.00	12.00	12.50
andr	11.00	10.00	5.50	7.00
pier	5.50	7.00	14.00	11.50
brig	13.00	12.50	8.50	9.50
evel	9.00	9.50	12.50	12.00

Nous présentons ci-dessous quelques résultats de l'A.C.P.

Résultats préliminaires

Le logiciel fournit tout d'abord la moyenne (mean), l'écart-type (standard deviation), le minimum et le maximum de chaque variable. Il s'agit donc, pour l'instant, d'études univariées.

Statistiques élémentaires

Variable	Moyenne	Ecart-type	Minimum	Maximum
MATH	9.67	3.37	5.50	14.50
PHYS	9.83	2.99	6.00	14.50
FRAN	10.22	3.47	5.00	15.50
ANGL	10.06	2.81	5.50	15.00

a) Que remarquez-vous ?

Le tableau suivant donne la matrice des corrélations. Il donne les coefficients de corrélation linéaire des variables prises deux à deux.

Coefficient de corrélation

	MATH	PHYS	FRAN	ANGL
MATH	1.00	0.98	0.23	0.51
PHYS	0.98	1.00	0.40	0.65
FRAN	0.23	0.40	1.00	0.95
ANGL	0.51	0.65	0.95	1.00

b) Que remarquez-vous ?

Résultats généraux

Matrice de variance-covariance

	MATH	PHYS	FRAN	ANGL
MATH	11.39	9.92	2.66	4.82
PHYS	9.92	8.94	4.12	5.48
FRAN	2.66	4.12	12.06	9.29
ANGL	4.82	5.48	9.29	7.91

Valeurs propres et variance expliquée

COMP.	VAL.PR.	PCT.VAR.	PCT.CUM.
1	28.23	0.70	0.70
2	12.03	0.30	1.00
3	0.03	0.00	1.00
4	0.01	0.00	1.00
	---	---	
	40.30	1.00	

Ici :

PCT=pourcentage de variance

PCT= pourcentage cumulé : exemple $(28,23/40,30) \times 100 = 70\%$.

- Quelle est la relation entre λ_i est la variance de C_i ?
- Comment interprétez-vous la relation suivante qui relie la variance des variables initiales X_i avec celle des composantes principales C_i ?

$$\sum_{i=1}^4 \text{Var}(X_i) = \sum_{i=1}^4 \text{Var}(C_i)$$

Résultats sur les variables

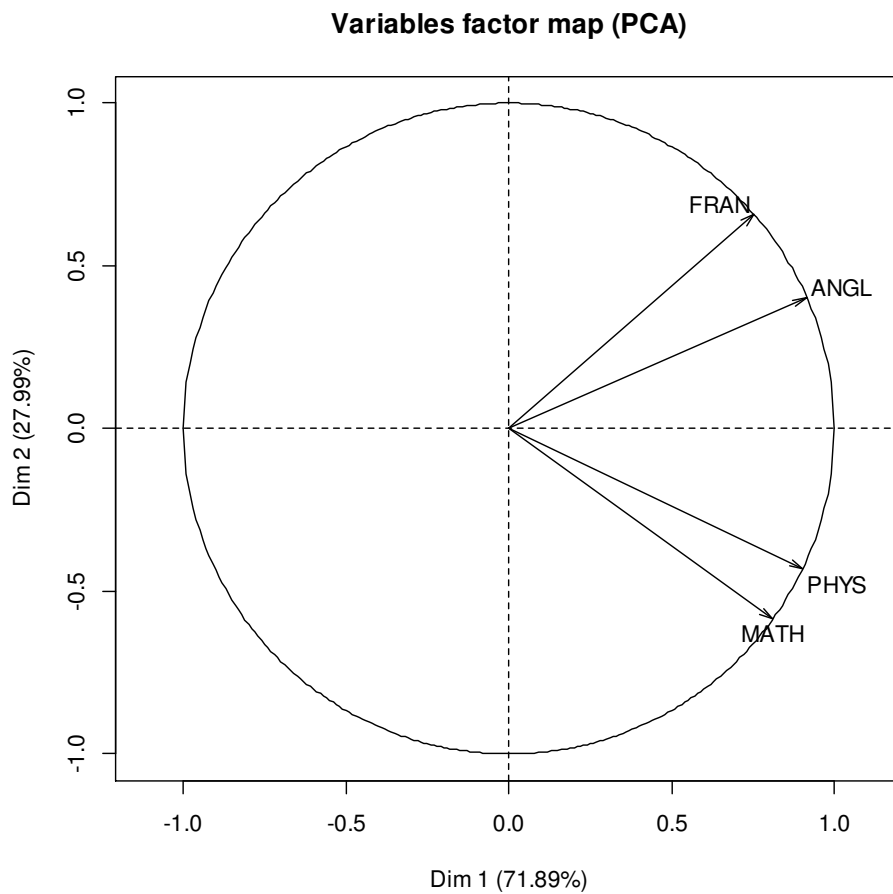
Le résultat fondamental concernant les variables est le tableau des corrélations variables-composantes (tableau des $r(X_j, C_k)$). Il s'agit des coefficients de corrélation linéaire entre les variables initiales et les composantes principales. Ce sont ces corrélations qui vont permettre de donner un sens aux composantes principales (de les interpréter).

Corrélations variables – composantes $r(X_j, C_k)$

	C1	C2	C3	C4
MATH	0.81	0.58	0.01	0.02
PHYS	0.90	0.43	0.03	0.02
FRAN	0.75	0.66	0.02	0.01
ANGL	0.91	0.40	0.05	0.01

Les deux premières colonnes de ce tableau permettent, tout d'abord, de réaliser le graphique des variables ci-dessous.

Mais, ces deux colonnes permettent également de donner une signification aux facteurs (donc aux axes des graphiques).



Comment interprétez-vous ces résultats ?

Résultats sur les individus

Le tableau donné ci-dessous contient tous les résultats importants de l'A.C.P. sur les individus.

Coordonnées des individus ; contributions ; cosinus carés

	POIDS	FACT1	FACT2	CONTG	CONT1	CONT2	COSCA1	COSCA2
jean	0.11	8.61	1.41	20.99	29.19	1.83	0.97	0.03
alan	0.11	3.88	0.50	4.22	5.92	0.23	0.98	0.02
anni	0.11	3.21	3.47	6.17	4.06	11.11	0.46	0.54
moni	0.11	9.85	0.60	26.86	38.19	0.33	1.00	0.00
didi	0.11	6.41	2.05	12.48	16.15	3.87	0.91	0.09
andr	0.11	3.03	4.92	9.22	3.62	22.37	0.28	0.72
pier	0.11	1.03	6.38	11.51	0.41	37.56	0.03	0.97
brig	0.11	1.95	4.20	5.93	1.50	16.29	0.18	0.82
evel	0.11	1.55	2.63	2.63	0.95	6.41	0.25	0.73

On notera que chaque individu représente 1 élément sur 9, d'où un poids (une pondération) de $1/9 = 0,11$, ce qui est fourni par la première colonne du tableau. Les 2 colonnes suivantes fournissent les coordonnées des individus (les élèves) sur les deux premiers axes (les facteurs) et ont donc permis de réaliser le graphique des individus ci-dessous. Ce dernier permet de préciser la signification des axes, donc des facteurs.

La signification et l'utilisation des dernières colonnes du tableau seront explicitées un peu plus loin.

Comment interprétez-vous les résultats obtenus sur les individus ?

